














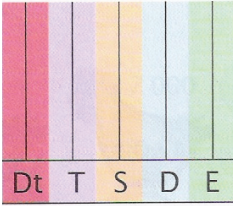


Priloga 3

Učni list B



ZNAJJA	NALOGE
<ul style="list-style-type: none"> • Branje in zapisovanje števil 	<p>1. Zapiši števila, ki jih simboli , ,  predstavljajo na številske traku.</p> <p> število: _____,  število: _____,</p> <p> število: _____</p>
<ul style="list-style-type: none"> • Zaokroževanje števil 	<p>2. Zaokroži:</p> <p>število 62592 na desetice: _____</p> <p>število 62695 na stotice: _____</p> <p>število 62605 na tisočice: _____</p>
<ul style="list-style-type: none"> • Določanje predhodnika in naslednika 	<p>3. Dopolni.</p> <p>Predhodnik števila  je _____, naslednik pa _____</p> <p>Predhodnik števila  je _____, naslednik pa _____</p>
<ul style="list-style-type: none"> • Zapis zaporedja števil 	<p>4. a) Zapiši zaporedje števil med številom  in številom .</p> <p>_____</p> <p>b) Zapiši vsa števila s številске premice, katerih enica je števk 1.</p> <p>_____</p> <p>c) Zapiši vsa soda števila, ki so razvrščena med številom, ki ga predstavlja  in številom, ki ga predstavlja .</p> <p>_____</p>
<ul style="list-style-type: none"> • Predstavitev števil <p>a) na pozicijskem računalu</p> <p>b) zapis z desetiškimi enotami</p> <p>c) zapis števil z besedo</p>	<p>5. Reši naloge.</p> <p>a) Število  predstavi na pozicijskem računalu.</p> <p>b) Število  zapiši z desetiškimi enotami.</p> <p>_____</p> <p>c) Z besedo zapiši število, ki je za 1 manjše od števila .</p> <p>_____</p> <div data-bbox="949 1344 1182 1549" style="text-align: center;">  </div>